

**FATİH İMAM HATİP ORTAOKULU**  
**BİLİŞİM TEKNOLOJİLERİ VE YAZILIM DERSİ 6. SINIF ÖRNEK SINAV SORULARI**

1. Teknolojinin fazla sürede kullanımı maalesef teknoloji bağımlılığına yol açmaktadır. Teknoloji bağımlılığı televizyon, telefon, tablet, bilgisayar oyunları, oyun konsolları, internet, sosyal medya gibi ortamların hepsinin kullanımını kapsar. Teknoloji bağımlılığı sebebiyle yeni kavramlar da gelişmektedir.

**Teknoloji bağımlılığı sebebiyle ortaya çıkan kavramlardan aşağıdakileri tanımlayınız? (★)**

<b>Selfitis:</b>	
<b>Ego Sörfü:</b>	
<b>Siberkondri:</b>	

2. Elif'in 3 aylık bir kız kardeşi var. Bebek uyurken onu uyandırmadan müzik dinlemek istiyor. **Bunun için hangi donanımı kullanmalıdır? Yazınız. (★)**

--

3. **Windows işletim sisteminde bir dosyanın uzantısını ve boyutunu öğrenmek için izlenecek adımları yazınız? (★★)**

--

4. **Aşağıda verilen cümlelerdeki boşlukları uygun ve doğru sözcüklerle tamamlayınız. (★★)**

Sabit disk bölümleri ..... harfi ile başlayarak isimlendirilir.
Önemli dosyalar bilgisayarın ..... sürücüsüne yedeklenmelidir.
Bilgisayarı yöneten ana yazılım ..... yazılımdır.
Açık kaynak kodlu bir işletim sistemlerine ..... örnek verilebilir.
Bilgisayar açıldıktan sonra karşımıza gelen ilk ekran görüntüsüne ..... denir.

5. **PARDUS işletim sisteminin özelliklerini yazınız. (★★★)**

--

6. İnternet etiğine uygun iletişim kurarken dikkat edilmesi gereken görgü kurallarına netiket denir. **Çevrimiçi ortamlarda bu nezaket kurallarına uygun hareket etmek için nelere dikkat etmemiz gerektiği ile ilgili 3 madde yazınız. (★★★)**


**FATİH İMAM HATİP ORTAOKULU**  
**BİLİŞİM TEKNOLOJİLERİ VE YAZILIM DERSİ 6. SINIF ÖRNEK SINAV SORULARI**

7. “İnternette yaptığınız her eylem, arkasında bir \_\_\_\_\_ bırakır.” Cümlesinde boş bırakılan yere ne yazılmalıdır? (★)


8. Aşağıda verilen işletim sistemlerini **Kod Yapısına** ve **Kullanım Alanına Göre** karşılaştırma yaptığımızda hangi alanların işaretlenmesi gerektiğini belirtiniz.







**İŞLETİM SİSTEMLERİ KARŞILAŞTIRMA TABLOSU**

İşletim Sisteminin Adı	İşletim Sisteminin Sembölü	İşletim Sisteminin Geliştiricisi	Kod Yapısına Göre		Kullanım Alanına Göre	
			Açık Kaynak Kodlu	Kapalı Kaynak Kodlu	Mobil	Masaüstü
Windows		Microsoft				
Linux		Linux				
MacOS		Apple				
Pardus		TUBİTAK				
Android		Google				
iOS		Apple				

9. Bulut Depolama nedir açıklayınız? Bulut depolama hizmeti aldığımız firmalardan dört tanesini yazınız.

2 GB	5 GB	5 GB	10 GB	15 GB	50 GB
?	?	?	?	?	?
					

**FATİH İMAM HATİP ORTAOKULU**  
**BİLİŞİM TEKNOLOJİLERİ VE YAZILIM DERSİ 6. SINIF ÖRNEK SINAV SORULARI**

ADI	A	B	C	D	E	F
UZANTISI						
BOYUTU	4,3 MB	16 MB	8 MB	402 KB	26 B	1,4 GB

10. Yukarıdaki tabloda bazı dosyaların adları, uzantıları ve hafızada kapladıkları alan verilmiştir. Buna göre aşağıdaki soruları cevaplandırınız. (★ ★)

I.	Hafızada en az yer kaplayan dosya hangisidir?
II.	Tabloda yer alan video dosyası hangisidir?
III.	Görsel dosyaları hangileridir?
IV.	Ses dosyasının hafızada kapladığı alan ne kadardır?
V.	Dosyalar hafızada kapladığı alana göre büyükten küçüğe sıralanırsa en fazla yer kaplayan 2. dosyanın adı ve türü(içeriği) nedir?